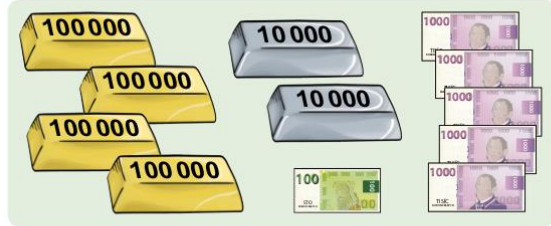


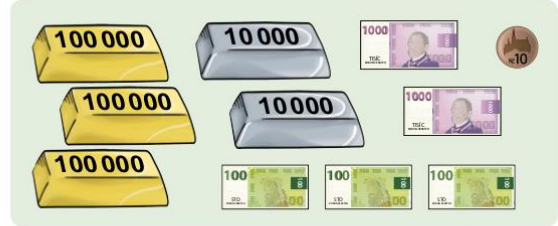
Matematika

Zapiš částku číslem

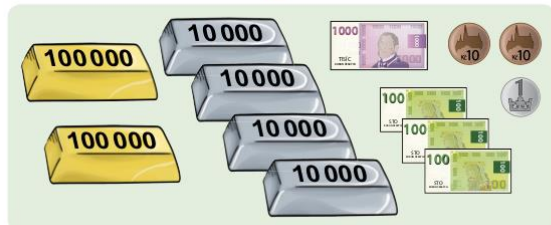
a



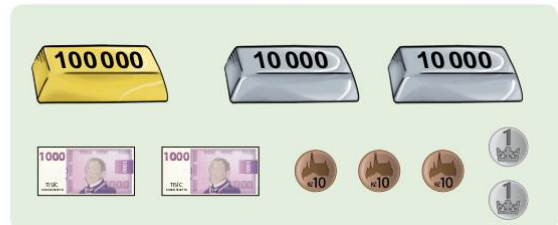
b



c



d



Napiš číslo o sto menší

540 328 _____ 1 234 _____ 6 432 060 _____

Napiš číslo o tisíc větší

96 621 _____ 324 599 _____ 999 412 _____

Napiš číslo, které je hned před

500 _____ 1 000 _____ 14 000 _____ 600 000 _____

Vypočítej příklady

$$5 \times 1 \times 5 \times 5 : 2 =$$

$$5 \times 5 \times 2 \times 5 =$$

$$2 \times 5 \times 5 \times 2 : 2 =$$

$$5 \times 5 : 2 : 5 =$$

$$5 : 2 \times 5 \times 5 =$$

Vyřeš slovní úlohu

Tatínek, maminka, Pepík, Mařenka a pes Blesk se vydali k jezeru chytit zlatou rybku. Každý z nich měl už dopředu připravené přání. I kdyby zlatou rybku chytili, zlatá rybka by jim však mohla splnit pouze 3 přání.

- Která 3 přání by byla nejvíce nákladná? Kolik korun bychom za ně zaplatili v obchodě?
- Která 3 přání by byla nejméně nákladná? Kolik korun bychom za ně zaplatili v obchodě?
- O kolik korun by bylo tatínkovo přání nákladnější než maminčino?

