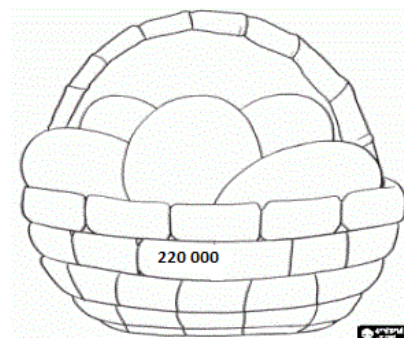
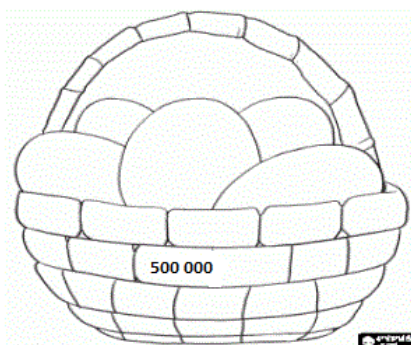
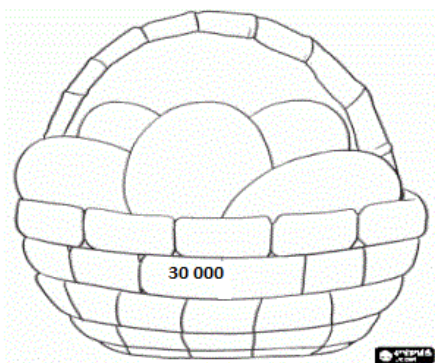


Matematika 7.4.

1. Napiš do vajíček čísla, která po zaokrouhlení na tisíce patří do košíku.



2. Do vajíček zapiš 4 příklady, které se rovnají uvedenému číslu

